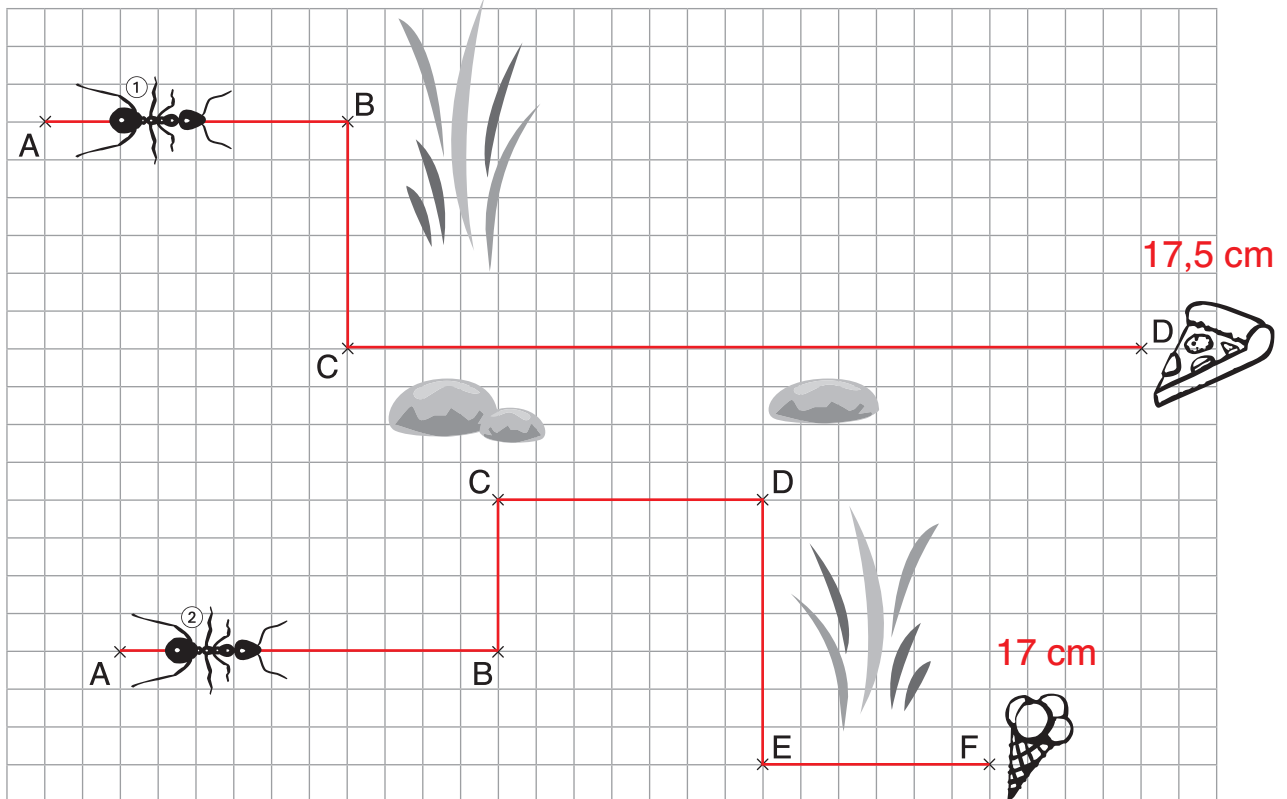
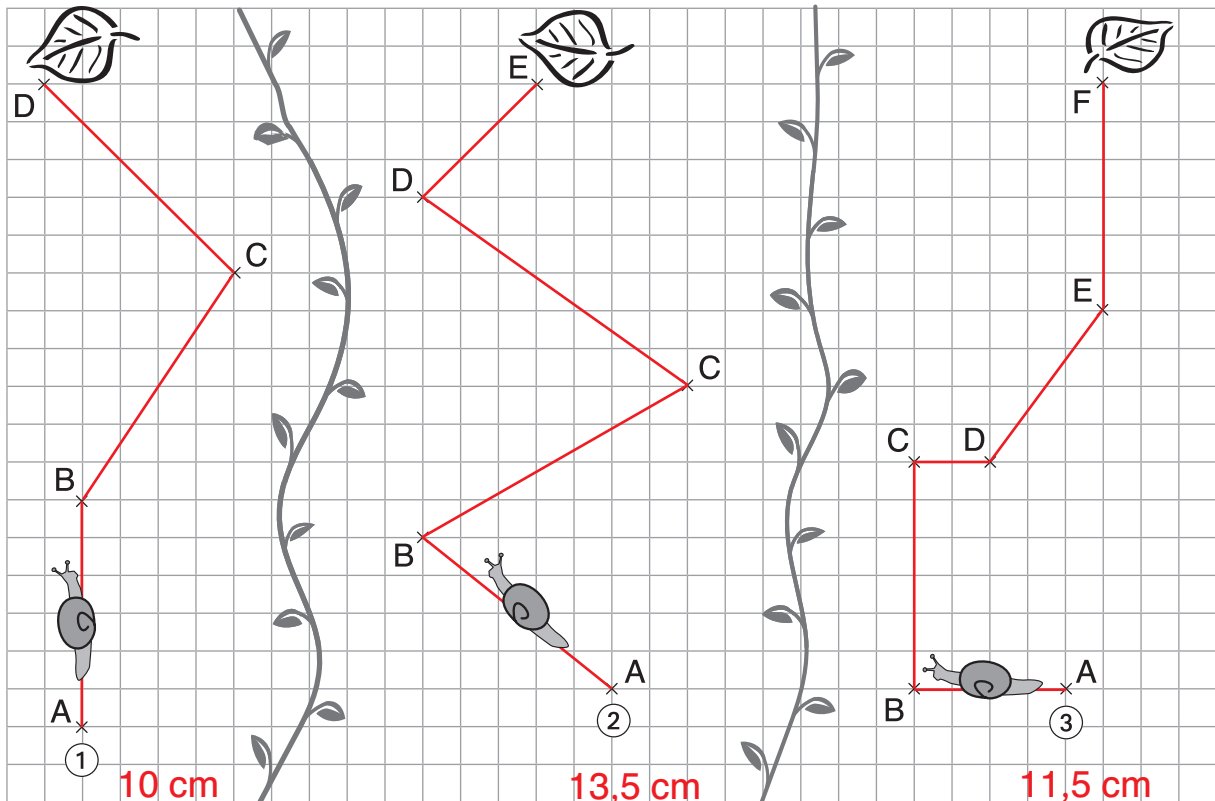


Welche Ameise hat den längsten Weg zum Ziel? Miss die Länge des Weges.



Welche Schnecke kommt zuerst oben an? Miss die Länge des Weges.


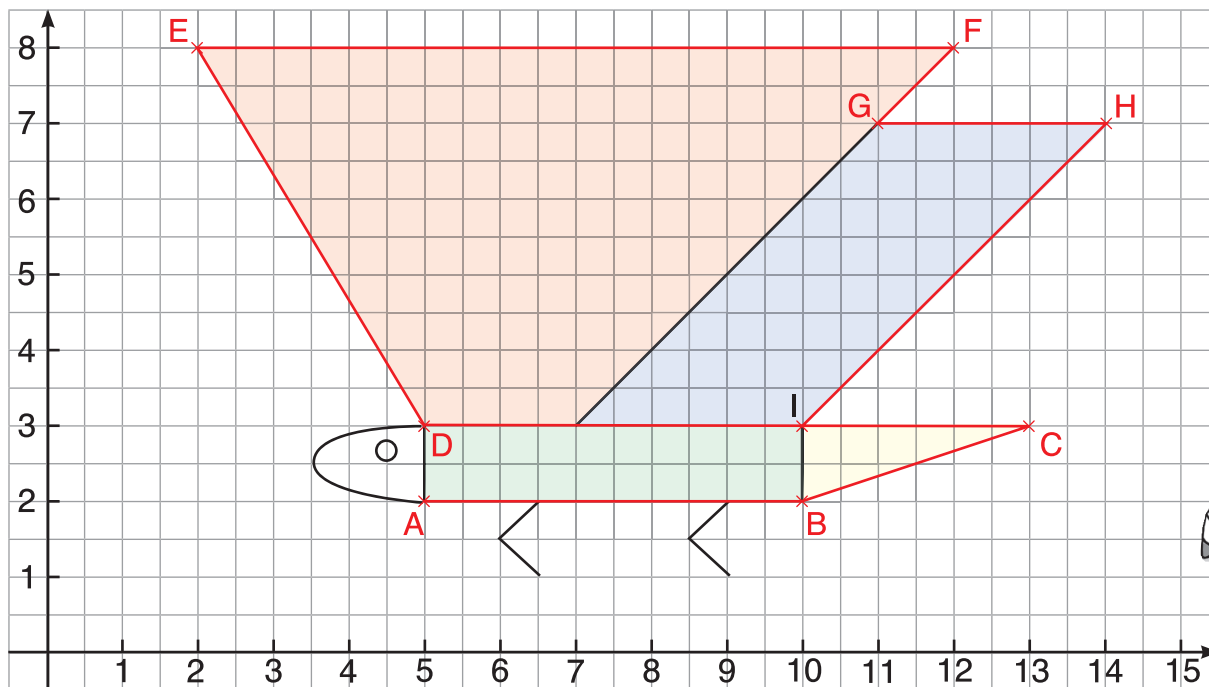


Name: \_\_\_\_\_ Datum: \_\_\_\_\_



**Zeichne die Punkte ein und verbinde sie. Welche Figur entsteht?**

- a) A (5|2), B (10|2), C (13|3), D (5|3), E (2|8), F (12|8), G (11|7), H (14|7), I (10|3)  
 b) Färbe die Flächen der Figur:  
 Rechteck (grün), Dreieck (gelb), Parallelogramm (blau), Trapez (rot).


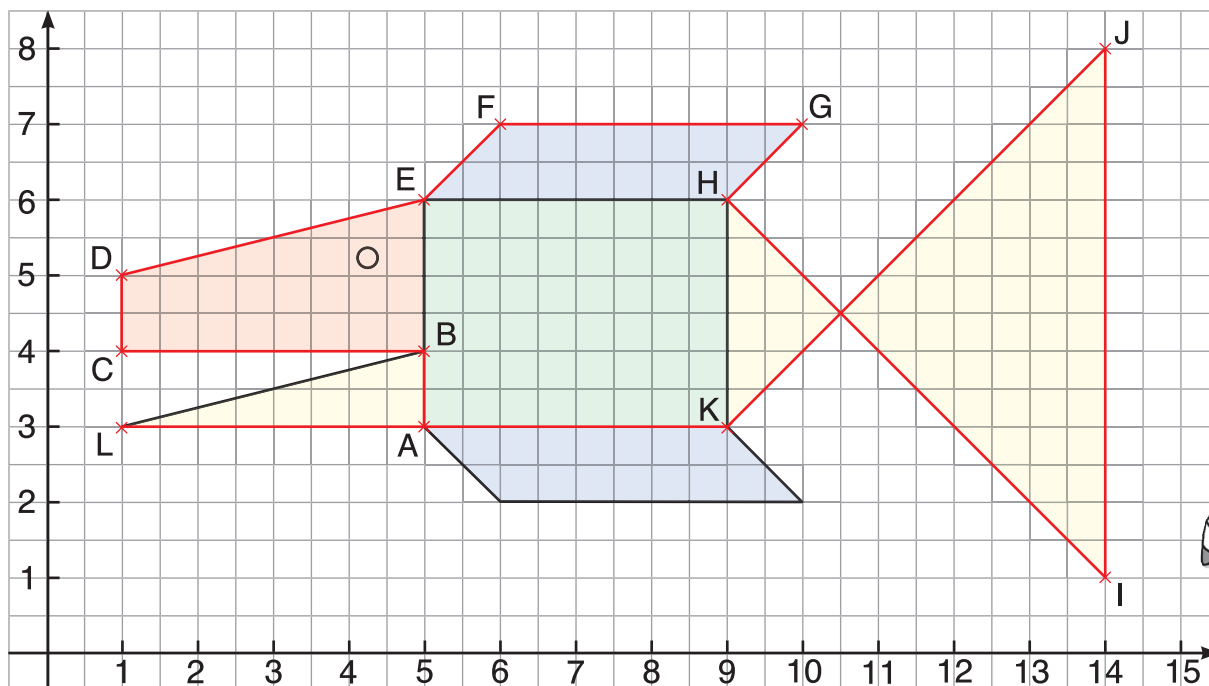


Name: \_\_\_\_\_ Datum: \_\_\_\_\_




**Zeichne die Punkte ein und verbinde sie. Welche Figur entsteht?**

- a) A (5|3), B (5|4), C(1|4), D (1|5), E (5|6), F (6|7), G (10|7), H (9|6), I (14|1),  
 J (14|8), K (9|3), L (1|3)  
 b) Färbe die Flächen: Rechteck (grün), Dreieck (gelb), Parallelogramm (blau), Trapez (rot).




Name: \_\_\_\_\_ Datum: \_\_\_\_\_



**Zeichne das Gebäude aus verschiedenen Richtungen.**

	<b>von vorn</b>		<b>von oben</b>	
	<b>von rechts</b>		<b>von links</b>	

Name: \_\_\_\_\_ Datum: \_\_\_\_\_



**Zeichne das Gebäude aus verschiedenen Richtungen.**

	<b>von vorn</b>		<b>von oben</b>	
	<b>von rechts</b>		<b>von links</b>	

